

Единый государственный экзамен по математике, 2003 год

Часть А

А1. Упростите выражение $\frac{\cos^4 \alpha + \sin^2 \alpha \cdot \cos^2 \alpha}{\sin^2 \alpha}$.

1. 1 2. $\operatorname{tg}^2 \alpha$ 3. $\operatorname{ctg}^2 \alpha$ 4. $\frac{1}{\sin^2 \alpha}$

Решение. Используя основное тригонометрическое тождество, получаем:

$$\frac{\cos^4 \alpha + \sin^2 \alpha \cdot \cos^2 \alpha}{\sin^2 \alpha} = \frac{\cos^2 \alpha (\cos^2 \alpha + \sin^2 \alpha)}{\sin^2 \alpha} = \frac{\cos^2 \alpha}{\sin^2 \alpha} = \operatorname{ctg}^2 \alpha.$$

Правильный ответ: 3.

А2. Представьте выражение $a^{\frac{9}{4}} : a^{-\frac{3}{4}}$ в виде степени с основанием a .

1. $a^{\frac{27}{16}}$ 2. $a^{\frac{3}{2}}$ 3. a^{-3} 4. a^3

Решение. На основании свойств степени имеем:

$$a^{\frac{9}{4}} : a^{-\frac{3}{4}} = a^{\frac{9}{4} - (-\frac{3}{4})} = a^{\frac{12}{4}} = a^3.$$

Правильный ответ: 4.

А3. Вычислите $\sqrt[3]{125 \cdot 0,027}$.

1. $\frac{3}{2}$ 2. 15 3. 0,015 4. 0,15

Решение. Применяя свойства корня последовательно получаем:

$$\sqrt[3]{125 \cdot 0,027} = \sqrt[3]{5^3 \cdot 3^3 \cdot \left(\frac{1}{10}\right)^3} = 5 \cdot 3 \cdot \frac{1}{10} = \frac{3}{2}.$$

Правильный ответ: 1.

А4. Найдите значение выражения $\log_{20} 5 + \log_{20} 4 + 2$.

1. 1 2. 2 3. 3 4. 22

Решение. Используя формулу преобразования суммы логарифмов в логарифм произведения, получаем:

$$\log_{20} 5 + \log_{20} 4 + 2 = \log_{20} (5 \cdot 4) + 2 = 1 + 2 = 3.$$

Правильный ответ: 3.

A5. Найдите все решения уравнения $(\operatorname{tg}^2 x + 1) \operatorname{tg} x = -\frac{1}{\cos^2 x}$.

1. $-\frac{\pi}{2} + 2\pi k; k \in \mathbb{Z}$ 2. $\pi k; k \in \mathbb{Z}$ 3. $-\frac{\pi}{4} + \pi k; k \in \mathbb{Z}$ 4. $\frac{\pi}{4} + \pi k; k \in \mathbb{Z}$

Решение. Применив формулу $1 + \operatorname{tg}^2 x = \frac{1}{\cos^2 x}$, получим:

$$\begin{aligned} (\operatorname{tg}^2 x + 1) \operatorname{tg} x &= -\frac{1}{\cos^2 x} \Leftrightarrow \frac{1}{\cos^2 x} \cdot \operatorname{tg} x + \frac{1}{\cos^2 x} = 0 \Leftrightarrow \frac{1}{\cos^2 x} (\operatorname{tg} x + 1) = 0 \Leftrightarrow \\ &\Leftrightarrow \operatorname{tg} x = -1 \Leftrightarrow x = -\frac{\pi}{4} + \pi k, k \in \mathbb{Z}. \end{aligned}$$

Правильный ответ: 3.

A6. Укажите промежуток, которому принадлежит корень уравнения $\lg(5+x) - \lg(1-x) = \lg 2$.

1. $(-2; 0)$ 2. $(0; 8)$ 3. $(-5; -2)$ 4. $(8; 10)$

Решение. Решим уравнение

$$\lg(5+x) - \lg(1-x) = \lg 2 \Leftrightarrow \lg(5+x) = \lg 2 + \lg(1-x) \Leftrightarrow \begin{cases} 1-x > 0, \\ 5+x = 2(1-x) \end{cases} \Leftrightarrow \begin{cases} x < 1, \\ 3x = -3 \end{cases} \Leftrightarrow x = -1.$$

Таким образом, корень уравнение принадлежит промежутку $(-2; 0)$.

Правильный ответ: 1.

A7. Решите неравенство $16 \leq 2^{x+3}$.

1. -3 2. $[7; +\infty)$ 3. $(-\infty; -1]$ 4. $[1; +\infty)$

Решение. По свойству показательной функции с основанием большим единицы

$$16 \leq 2^{x+3} \Leftrightarrow 2^4 \leq 2^{x+3} \underset{2>1}{\Leftrightarrow} 4 \leq x+3 \Leftrightarrow x \geq 1.$$

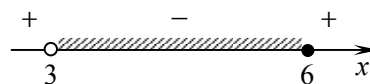
Правильный ответ: 4.

A8. Определите число целых решений неравенства $\frac{6-x}{3x-9} \geq 0$.

1. 1 2. 2 3. 3 4. 4

Решение. Решим неравенство методом интервалов:

$$\frac{6-x}{3x-9} \geq 0 \Leftrightarrow \frac{x-6}{x-3} \leq 0$$



На промежутке $(3; 6]$ есть три целых решения: 4, 5, 6.

Правильный ответ: 3.

A9. Укажите промежуток, которому принадлежат корни уравнения $\sqrt{x-5} = 7-x$.

1. $[0; 5,3]$ 2. $[5,5; 6,3]$ 3. $[7; 10]$ 4. $[11; 12,5]$

Решение.

I способ. Используя теорему равносильности $\sqrt{f(x)} = g(x) \Leftrightarrow \begin{cases} f(x) = g^2(x), \\ g(x) \geq 0 \end{cases}$, получим:

$$\sqrt{x-5} = 7-x \Leftrightarrow \begin{cases} 7-x \geq 0, \\ x-5 = (7-x)^2 \end{cases} \Leftrightarrow \begin{cases} x \leq 7, \\ x^2 - 15x + 54 = 0 \end{cases} \Leftrightarrow \begin{cases} x \leq 7, \\ \begin{cases} x = 6, \\ x = 9 \end{cases} \end{cases} \Leftrightarrow \begin{cases} x = 6, \\ x = 6. \end{cases}$$

II способ. Приведем уравнение к квадратному относительно $\sqrt{x-5}$:

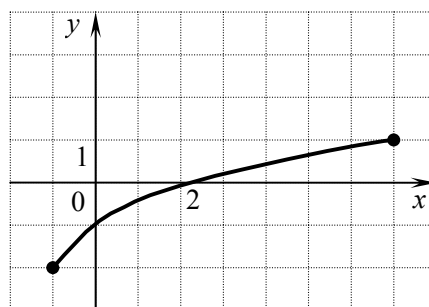
$$\begin{aligned} \sqrt{x-5} = 7-x &\Leftrightarrow x-5 + \sqrt{x-5} - 2 = 0 \Leftrightarrow \sqrt{x-5}^2 + \sqrt{x-5} - 2 = 0 \Leftrightarrow \\ &\Leftrightarrow \begin{cases} \sqrt{x-5} = -2 - \text{решений нет,} \\ \sqrt{x-5} = 1 \end{cases} \Leftrightarrow x-5 = 1 \Leftrightarrow x = 6 \end{aligned}$$

Таким образом, корень уравнения принадлежит промежутку $[5,5; 6,3]$.

Правильный ответ: 2.

A10. Функция задана графиком. Укажите область определения этой функции.

1. $[-1; 2)$
2. $[-2; 1]$
3. $(-1; 6)$
4. $[-1; 7]$



Решение. Область определения функции есть множество значений ее аргумента x . В нашем случае, это отрезок $[-1; 7]$.

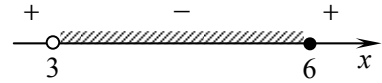
Правильный ответ: 4.

A11. Найдите область определения функции $y = \log_{\frac{1}{5}} \frac{6-x}{6+2x}$.

1. $(-3; 6)$ 2. $(-6; 3)$ 3. $(-\infty; -3) \cup (6; +\infty)$ 4. $(0; 6)$

Решение. Область определения функции задается неравенством $\frac{6-x}{6+2x} > 0$. Решим его методом интервалов:

$$\frac{6-x}{6+2x} > 0 \Leftrightarrow \frac{x-6}{x+3} < 0$$



Правильный ответ: 1.

A12. Найдите множество значений функции $y = \sin x - 3$.

1. $[-4; -2]$ 2. $[-10; 4]$ 3. $[-4; 4]$ 4. $[-10; 10]$

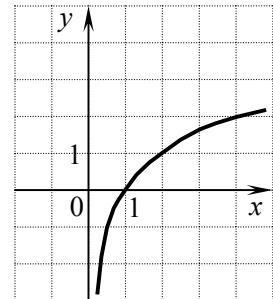
Решение. В силу ограниченности функции синус и свойств неравенств:

$$-1 \leq \sin x \leq 1 \Leftrightarrow -4 \leq \sin x - 3 \leq -2.$$

Правильный ответ: 1.

A13. График какой из перечисленных функций изображен на рисунке?

1. $y = 2^x$
 2. $y = (0,5)^x$
 3. $y = \log_2 x$
 4. $y = \log_{0,5} x$



Решение. На рисунке изображен график функции $y = \log_2 x$.

Правильный ответ: 3.

A14. Найдите производную функции $y = \cos x + x^4$.

1. $y' = -\sin x + 4x^3$ 2. $y' = \sin x + 4x^3$ 3. $y' = \sin x + x^3$ 4. $y' = -\sin x + x^3$

Решение. Используя формулы $(x^n)' = nx^{n-1}$ и $(\cos x)' = -\sin x$, получим:

$$y' = -\sin x + 4x^3.$$

Правильный ответ: 1.

A15. Найдите первообразную функции $f(x) = e^x + 4x^3$, если известно, что $F(0) = -1$.

1. $F(x) = e^x + 3x^4 - 2$ 2. $F(x) = e^x + x^4 - 2$
 3. $F(x) = e^x + 12x^2 - 2$ 4. $F(x) = -e^x + 12x^2$

Решение. Найдем множество первообразных $F(x)$:

$$F(x) = e^x + \frac{1}{4} \cdot 4x^4 + C = e^x + x^4 + C.$$

Найдем C :

$$F(0) = -1 \Leftrightarrow e^0 + 0^4 + C = -1 \Leftrightarrow 1 + C = -1 \Leftrightarrow C = -2.$$

Таким образом,

$$F(x) = e^x + x^4 - 2.$$

Правильный ответ: 2.

A16. Найдите угловой коэффициент касательной, проведенной к графику функции $y = 5x^2 - 3x + 2$ в его точке с абсциссой $x_0 = 2$.

1. 16

2. 17

3. 0,3

4. 0

Решение. Угловой коэффициент касательной к графику функции в некоторой точке равен значению производной функции в этой точке:

$$\begin{aligned}y'(x) &= 10x - 3; \\y'(2) &= 10 \cdot 2 - 3 = 17.\end{aligned}$$

Правильный ответ: 2.

Часть В

В1. Пусть $(x_0; y_0)$ — решение системы $\begin{cases} y + 3 = \sqrt{4x^2 + 20x + 25}, \\ 3x - y + 7 = 0. \end{cases}$ Найдите произведение $x_0 \cdot y_0$.

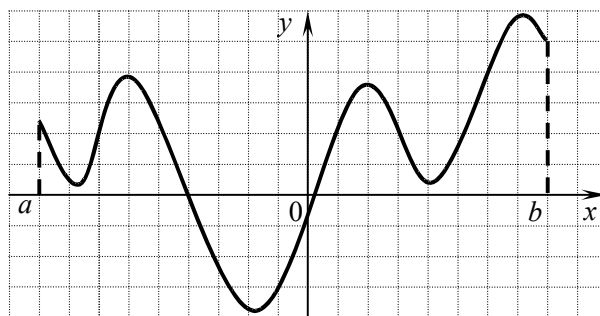
Решение. Решим систему

$$\begin{aligned} \begin{cases} y + 3 = \sqrt{4x^2 + 20x + 25}, \\ 3x - y + 7 = 0 \end{cases} &\Leftrightarrow \begin{cases} \sqrt{(2x+5)^2} = 3x + 7 + 3, \\ y = 3x + 7 \end{cases} \Leftrightarrow \begin{cases} |2x + 5| = 3x + 10, \\ y = 3x + 7 \end{cases} \Leftrightarrow \\ &\Leftrightarrow \begin{cases} x \geq -\frac{10}{3}, \\ \begin{cases} 2x + 5 = -(3x + 10), \\ 2x + 5 = 3x + 10, \\ y = 3x + 7 \end{cases} \end{cases} \Leftrightarrow \begin{cases} x \geq -\frac{10}{3}, \\ \begin{cases} x = -3, \\ x = -5, \\ y = 3x + 7 \end{cases} \end{cases} \Leftrightarrow \begin{cases} x = -3, \\ y = -2. \end{cases} \end{aligned}$$

Таким образом, произведением решений системы будет являться число 6.

Ответ: 6.

В2. На рисунке изображен график производной функции $y = f'(x)$, заданной на отрезке $[a; b]$. Исследуйте функцию $y = f(x)$ на монотонность и в ответе укажите число промежутков возрастания.



Решение. Данная функция возрастает на тех промежутках, на которых производная этой функции неотрицательна. В нашем случае таких промежутков 2.

Ответ: 2.

В3. Найдите значение выражения $(\log_{\sqrt[3]{5}} \sqrt{5} + \log_3 48 - \log_3 16) \cdot 15^{\log_{15} 4}$.

Решение.

$$\begin{aligned} (\log_{\sqrt[3]{5}} \sqrt{5} + \log_3 48 - \log_3 16) \cdot 15^{\log_{15} 4} &= \left(\log_{\frac{1}{5^3}} 5^{\frac{1}{2}} + \log_3 \frac{48}{16} \right) \cdot 4 = \\ &= \left(\frac{5}{2} \log_5 5 + \log_3 3 \right) \cdot 4 = \left(\frac{5}{2} + 1 \right) \cdot 4 = 14. \end{aligned}$$

Ответ: 14.

В4. Найдите наибольшее целое значение функции $y = \frac{3}{2} \sqrt{25 \cos^2 x + 10 \cos x + 14}$.

Решение. Наибольшее значение функции y достигается при наибольшем значении подкоренного выражения $g(x) = 25 \cos^2 x + 10 \cos x + 14$, т.е. при наибольшем значении квадратного трехчлена $f(t) = 25t^2 + 10t + 14$ на отрезке $[-1; 1]$.

$$f(t) = 25t^2 + 10t + 14 = (5t + 1)^2 + 13.$$

$$\max_{[-1; 1]} f(t) = f(1) = 6^2 + 13 = 49.$$

Тогда

$$\max_{\mathbb{R}} y(x) = 1,5\sqrt{49} = 10,5.$$

Ответ: 10,5.

В5. Укажите число корней уравнения $\operatorname{tg} 2x \cdot \sin 4x + \cos 4x - \cos 8x = 0$ на промежутке $[0; 2\pi]$.

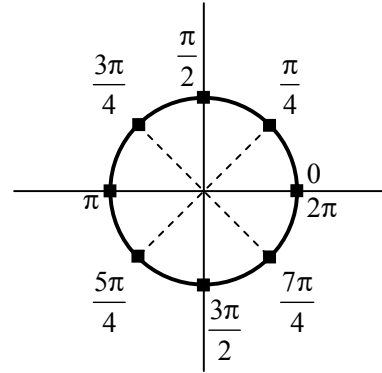
Решение. Упростим выражение $\operatorname{tg} 2x \cdot \sin 4x + \cos 4x - \cos 8x$:

$$\begin{aligned} \operatorname{tg} 2x \cdot \sin 4x + \cos 4x - \cos 8x &= \frac{\sin 2x}{\cos 2x} \cdot 2 \sin 2x \cdot \cos 2x + \cos 4x - \cos 8x = \\ &= 2 \sin^2 2x + \cos 4x - \cos 8x = 2 \sin^2 2x + 1 - 2 \sin^2 2x - \cos 8x = 1 - \cos 8x, \text{ где } \cos 2x \neq 0. \end{aligned}$$

Решим систему

$$\begin{cases} \cos 2x \neq 0, \\ 1 - \cos 8x = 0 \end{cases} \Leftrightarrow \begin{cases} \cos 2x \neq 0, \\ \cos 8x = 1 \end{cases} \Leftrightarrow \begin{cases} 2x \neq \frac{\pi}{2} + \pi n, n \in \mathbb{Z}, \\ 8x = 2\pi k, k \in \mathbb{Z} \end{cases} \Leftrightarrow$$

$$\Leftrightarrow \begin{cases} x \neq \frac{\pi}{4} + \frac{\pi n}{2}, n \in \mathbb{Z}, \\ x = \frac{\pi k}{4}, k \in \mathbb{Z}. \end{cases} \Leftrightarrow x = \frac{\pi k}{4}, k \in \mathbb{Z}.$$



На промежутке $[0; 2\pi]$ решениями являются $0, \frac{\pi}{4}, \pi, \frac{3\pi}{4}, 2\pi$.

Ответ: 5.

В6. При каком значении a функция $y = \sqrt[5]{ax^2 + 15x - 1}$ имеет максимум в точке $x_0 = \frac{3}{2}$?

Решение. Функция $y(x)$ имеет максимум в той же точке, что и функция $g(x) = ax^2 + 15x - 1$, которая имеет максимум в точке $x = -\frac{15}{2a}$ только при отрицательных значениях старшего коэффициента a . Решим уравнение

$$-\frac{15}{2a} = \frac{3}{2} \Leftrightarrow a = -5.$$

Ответ: -5.

В7. К 120 г раствора, содержащего 80% соли, добавили 480 г раствора, содержащего 20% той же соли. Сколько процентов соли содержится в получившемся растворе?

Решение. В первом растворе находится $0,8 \cdot 120 = 96$ граммов, а во втором $480 \cdot 0,2 = 96$ граммов соли. Масса сухого вещества после сливания стала $96 + 96 = 192$ граммов, масса

растворов $120 + 480 = 600$ граммов. Тогда процентное содержание η соли в полученном растворе есть

$$\eta = \frac{192}{600} \cdot 100\% = 32\% .$$

Ответ: 32%.

В8. Десятый член арифметической прогрессии равен 19, а сумма первых пятидесяти членов равна 2500. Найдите сумму третьего, двенадцатого и двадцатого членов этой прогрессии.

Решение. Поскольку $a_n = a_1 + (n-1)d$ и $S_n = \frac{2a_1 + d(n-1)}{2} \cdot n$, имеем систему

$$\begin{cases} a_1 + (10-1)d = 19, \\ \frac{2a_1 + d(50-1)}{2} \cdot 50 = 2500 \end{cases} \Leftrightarrow \begin{cases} a_1 + 9d = 19, \\ 2a_1 + 49d = 100 \end{cases} \Leftrightarrow \begin{cases} a_1 = 19 - 9d, \\ 31d = 62 \end{cases} \Leftrightarrow \begin{cases} a_1 = 1, \\ d = 2. \end{cases}$$

Таким образом,

$$\begin{aligned} a_3 &= 1 + (3-1) \cdot 2 = 5, \\ a_{12} &= 1 + (12-1) \cdot 2 = 23, \\ a_{20} &= 1 + (20-1) \cdot 2 = 39. \end{aligned}$$

Искомая сумма равна

$$5 + 23 + 39 = 67 .$$

Ответ: 67.

В9. Вычислите объем правильной треугольной пирамиды, высота которой равна $2\sqrt{3}$, а все плоские углы при вершине прямые.

Решение.

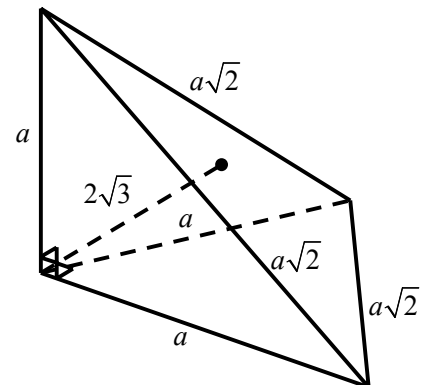
1. Пусть боковые ребра пирамиды имеют длину a . Тогда длина стороны ее основания равна $a\sqrt{2}$. Если за основание принять одну из боковых граней пирамиды, то

объем пирамиды равен $V = \frac{1}{6} a^3$ (см. рисунок).

2. С другой стороны

$$V = \frac{1}{3} H \cdot S_{\text{осн.}} = \frac{1}{3} \cdot 2\sqrt{3} \cdot \frac{(a\sqrt{2})^2 \sqrt{3}}{4} = a^2 .$$

3. Решая уравнение $\frac{1}{6} a^3 = a^2$, находим $a = 6$, откуда $V = 36$.



Ответ: $V = 36$.

В10. Найдите основание равнобедренного треугольника, если угол при основании равен 30° , а взятая внутри треугольника точка находится на одинаковом расстоянии, равном 3, от боковых сторон и на расстоянии $2\sqrt{3}$ от основания.

Решение.

1. Введем обозначения, как показано на рисунке. Поскольку точка O равноудалена от боковых сторон, она принадлежит BD — биссектрисе, а, следовательно, медиане и высоте данного треугольника.

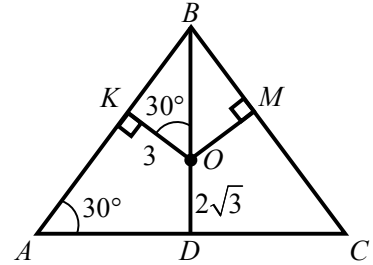
2. Треугольники ABD и OKB — подобны ($\angle BKO = \angle BDA = 90^\circ$ и $\angle ABD$ — общий), следовательно, $\angle KOB = \angle BAD = 30^\circ$.

Рассмотрим треугольник KBO :

$$BO = KO : \cos(\widehat{BOK}) = 2\sqrt{3},$$

следовательно,

$$BD = BO + OD = 2\sqrt{3} + 2\sqrt{3} = 4\sqrt{3}.$$



3. Из прямоугольного треугольника ABD получаем

$$AD = BD \cdot \operatorname{ctg}(\widehat{BAD}) = 4\sqrt{3} \cdot \sqrt{3} = 12, \text{ и поскольку } AD = DC, AC = 2AD = 24.$$

Ответ: 24.

Часть С

С1. Решите уравнение $\sqrt{13 + \frac{4}{\log_x 3}} = 2 \log_3(3\sqrt{x})$.

Решение.

$$\begin{aligned} \sqrt{13 + \frac{4}{\log_x 3}} = 2 \log_3(3\sqrt{x}) &\Leftrightarrow \begin{cases} 0 < x \neq 1, \\ \sqrt{13 + 4 \log_3 x} = 2 \log_3 3 + 2 \log_3 \sqrt{x} \end{cases} \Leftrightarrow \\ &\Leftrightarrow \begin{cases} 0 < x \neq 1, \\ \sqrt{13 + 4 \log_3 x} = 2 + \log_3 x \end{cases} \Leftrightarrow \begin{cases} 0 < x \neq 1, \\ 2 + \log_3 x \geq 0, \\ 13 + 4 \log_3 x = (2 + \log_3 x)^2 \end{cases} \Leftrightarrow \\ &\Leftrightarrow \begin{cases} 0 < x \neq 1, \\ \log_3 x \geq -2, \\ 13 + 4 \log_3 x = 4 + 4 \log_3 x + \log_3^2 x \end{cases} \Leftrightarrow \begin{cases} 0 < x \neq 1, \\ \log_3 x \geq -2, \\ \log_3^2 x = 9 \end{cases} \Leftrightarrow \begin{cases} 0 < x \neq 1, \\ \log_3 x = 3 \end{cases} \Leftrightarrow x = 27. \end{aligned}$$

Ответ: $\{27\}$.

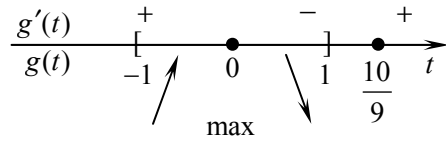
С2. Найдите все значения p , при которых уравнение $6 \sin^3 x = p - 5 \cos 2x$ не имеет корней.

Решение.

$$\begin{aligned} 6 \sin^3 x = p - 5 \cos 2x &\Leftrightarrow p = 6 \sin^3 x + 5 \cos 2x \Leftrightarrow p = 6 \sin^3 x + 5(1 - 2 \sin^2 x) \Leftrightarrow \\ &\Leftrightarrow p = 6 \sin^3 x - 10 \sin^2 x + 5. \end{aligned}$$

Уравнение не имеет решений при всех p , не принадлежащих множеству значений функции $y(x) = 6\sin^3 x - 10\sin^2 x + 5$, совпадающему со множеством значений функции $g(t) = 6t^3 - 10t^2 + 5$ на отрезке $[-1; 1]$. Найдем это множество:

Имеем: $g'(t) = 18t^2 - 20t = 2t(9t - 10)$. (см.рис)



Тогда

а) $\max_{[-1; 1]} g(t) = g_{\max} = g(0) = 5$;

б) $g(-1) = -11$, $g(1) = 1$ и, так как $g(-1) < g(1)$, имеем

$\min_{[-1; 1]} g(t) = g(-1) = -11$. Так как функция $g(t) = 6t^3 - 10t^2 + 5$ непрерывна на отрезке $[-1; 1]$, ее множество значений – отрезок $[-11; 5]$.

Таким образом, уравнение не имеет решений для $p \in (-\infty; -11) \cup (5; +\infty)$.
 Ответ: $(-\infty; -11) \cup (5; +\infty)$.

С3. Около правильной шестиугольной призмы описан цилиндр. Площадь боковой поверхности цилиндра равна $16\pi\sqrt{3}$. Расстояние между осью цилиндра и диагональю боковой грани призмы равно $2\sqrt{3}$. Найдите объем призмы.

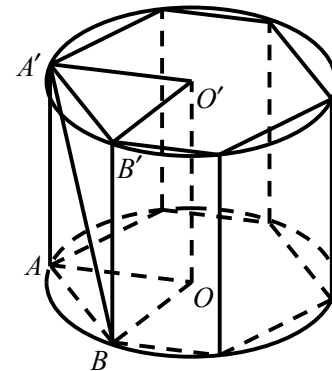
Решение. Введем обозначения, как показано на рисунке.

1. Площадь боковой поверхности цилиндра равна:

$$S_{\text{бок.}} = 2\pi RH,$$

где R — радиус основания цилиндра, H — его высота.
 Тогда

$$16\pi\sqrt{3} = 2\pi RH \Leftrightarrow RH = 8\sqrt{3}.$$



2. Расстояние между двумя скрещивающимися прямыми равно расстоянию между одной из прямых и параллельной ей плоскостью, содержащей вторую прямую. Тогда расстояние между осью цилиндра и диагональю боковой стороны призмы есть расстояние от прямой OO' до плоскости $AA'B'B$, которое равно высоте треугольника AOB , проведенной из точки O .

3. Так как треугольник AOB равносторонний, его высота есть $OB \cdot 0,5\sqrt{3} = 0,5R\sqrt{3}$, откуда

$$0,5R\sqrt{3} = 2\sqrt{3} \Leftrightarrow R = 4.$$

4. Объем призмы равен:

$$V = S \cdot H = 6 \cdot \frac{R^2\sqrt{3}}{4} \cdot H = \frac{3}{2}\sqrt{3} \cdot R \cdot RH = \frac{3}{2}\sqrt{3} \cdot 4 \cdot 8\sqrt{3} = 144.$$

Ответ: $V = 144$.

С4. Найдите все значения параметра a , при которых область определения функции $y = ((\sqrt{a})^{2x+1} + a^4\sqrt{x} - x^{0,5+x\log_x a} - (\sqrt{a})^9)^{0,5}$ содержит два или три целых числа.

Решение. По смыслу задачи: $a > 0$, $0 < x \neq 1$.

Поскольку степень с дробным положительным показателем определена только для неотрицательного основания, область определения данной функции задается неравенством $(\sqrt{a})^{2x+1} + a^4 \sqrt{x} - x^{0,5+x \log_x a} - (\sqrt{a})^9 \geq 0$. Решим это неравенство:

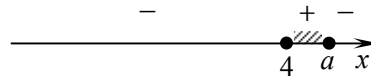
$$\begin{aligned} (\sqrt{a})^{2x+1} + a^4 \sqrt{x} - x^{0,5+x \log_x a} - (\sqrt{a})^9 \geq 0 &\Leftrightarrow a^{x+\frac{1}{2}} + a^4 \cdot x^{\frac{1}{2}} - x^{\frac{1}{2}} \cdot a^x - a^{\frac{9}{2}} \geq 0 \Leftrightarrow \\ &\Leftrightarrow a^x (a^{\frac{1}{2}} - x^{\frac{1}{2}}) + a^4 (x^{\frac{1}{2}} - a^{\frac{1}{2}}) \geq 0 \Leftrightarrow (a^x - a^4)(a^{\frac{1}{2}} - x^{\frac{1}{2}}) \geq 0. \end{aligned}$$

При $a = 1$ решениями неравенства являются все допустимые значения x , и область определения данной функции содержит бесконечное множество целых чисел.

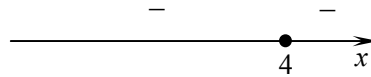
Решим последнее неравенство при $a > 0$, $a \neq 1$ методом интервалов.

Имеем:

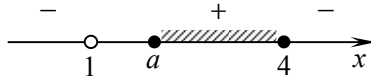
1. При $a > 4$: ООФ – отрезок $[4; a]$.



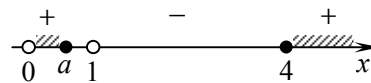
2. При $a = 4$: ООФ – множество $\{4\}$.



3. При $1 < a < 4$: ООФ – отрезок $[a; 4]$.



4. При $0 < a < 1$: ООФ – множество $(0; a] \cup [4; +\infty)$.



В первом случае ООФ содержит 2 или 3 целых числа, если $5 \leq a < 7$, во втором случае – ни при каких a , в третьем – при $1 < a \leq 3$, в четвертом – ни при каких a .

Ответ: $a \in (1; 3] \cup [5; 7)$.